

Wochenplan

vom 12.10. bis 14.10.2020

		Name:		
Lernbereich	Was?	Aufgaben	Wie?	Fertig
 Deutsch	 Lernwörter 2b Wörter und Sätze ins Wolkenheft			
	 Lilo Übungsheft S. 17+18			
	 Kopiervorlage 6			
 Lesen	 Lesewochenheft Woche 6			
	 Emil der Elefant lesen Fragen dazu beantworten			
 Mathe	 Zahlenreihe			
	 Hundertertafel			
	 Ich kenne Zehner und Einer			



1. Welches Tier ist das? Verbinde die Buchstaben nach dem Alphabet.



Das Alphabet

A	B	C	D	E	F	G	H	I	J	K	L	M
N	O	P	Qu	R	S	T	U	V	W	X	Y	Z

2. Schreib die Namenwörter in der richtigen Form.

ein/eine

mehr

ein Hase

→ zwei Hasen

eine Maus

→ vier _____

ein Vogel

→ drei _____

eine Katze

→ fünf _____

→ drei Hennen

→ vier Hunde

Namenwörter ändern sich,
wenn du von mehreren sprichst:
eine Katze – drei ...?
eine Maus – vier ...?
ein Vogel – drei ...?



3. Zähl die Tiere. Trag die Tiernamen in der richtigen Spalte ein.

ein _____


zwei _____

drei _____

vier _____

fünf _____

sechs _____



1. Schreib die Sätze.

Anna noch nie war in Rom.

Anna war

Ich nur einmal bei dir. war

Ich gern. Hunde habe

Was deine Katze? frisst

Was Hamster? fressen

Ich nicht mehr helfen. mag

Wie bist du? alt

2. Schreib die Wörter. Setz ein oder eine davor.



ein Auto



B



K



V



S



R

Name: _____

Leseblatt

Emil der kleine Elefant

Emil ist ein kleiner Elefant.

Er mag das Wasser.

Am Samstag schwimmt er mit seiner Mama.

Am See kommen fast alle mit ins Wasser.

Nur Tante Ulla steht am Ufer.

Sie will nicht nass werden.

Ulla testet das Wasser.

Der See ist ihr zu kalt.

Sie will wieder zum Ufer.

Aber sie landet im Wasser.

Die anderen Elefanten wollen helfen.

Doch Ulla lacht. Es ist lustig.

Name: _____

Beantworte die Fragen.

Antworte in ganzen Sätzen.

1. Wie heißt der kleine Elefant?

2. Was macht der kleine Elefant gerne?

3. Warum will Tante Ulla nicht in den See gehen?

Zahlenreihe



1 Zeige die Zahlen auf der Zahlenreihe.


43, 44, 45, 46, 47 3, 30, 6, 60, 9, 90 13, 31, 28, 82 49, 94, 37, 73

2 Zähle weiter.


6, 7, __, __, __, __, __, __
26, 27, __, __, __, __, __, __

34, 33, __, __, __, __, __, __
95, 94, __, __, __, __, __, __

3 Große Schritte – kleine Schritte.



20, 30, __, __, __, __, __, __
30, 40, __, __, __, __, __, __
40, 42, __, __, __, __, __, __
71, 73, __, __, __, __, __, __
30, 35, __, __, __, __, __, __
65, 70, __, __, __, __, __, __



100, 90, __, __, __, __, __, __
70, 60, __, __, __, __, __, __
40, 38, __, __, __, __, __, __
63, 61, __, __, __, __, __, __
95, 90, __, __, __, __, __, __
40, 35, __, __, __, __, __, __

4 Gib die Nachbarzahlen an.

2	3	4		9			24			40	
12	13			49			42			50	
	23			79			59			60	
	33			99			95			70	

5 Gib die Nachbarzehner an.

10	14	20		26			85			55	
	34			62			58			66	

Hundertertafel

1 Welche Zahlen gehören in die grünen Felder?

5, 6, 12,

1	2	3	4			7	8	9	10
11		13		15	16		18		20
21	22	23		25	26		28	29	30
31			34	35	36	37			40
	42	43	44			47	48	49	
	52	53	54			57	58	59	
61			64	65	66	67			70
71	72	73		75	76		78	79	80
81		83		85	86		88		90
91	92	93	94			97	98	99	100

2 Welche Zahlen gehören in die roten Felder?



a)

1									10
91									100

b)

1									10
91									100

c)

									10
91									100

a) _____

b) _____

c) _____


3 Schreibe die Zahlen mit Ziffern und färbe das entsprechende Feld in der Hundertertafel.

- fünfundfünfzig
- zwanzig
- zwölf
- neunundachtzig
- zweiundvierzig
- sechzig
- dreiundachtzig
- einundzwanzig
- vierundsiebzig
- achtundvierzig
- sechsdreißig
- siebzehn

1									10
91									100

Name: _____

Ich kenne Zehner und Einer!
Schreibe die Zahl und zeichne.



$4Z\ 2E = 42 \quad |||| :$

$8Z\ 7E =$

$4Z\ 2E =$

$2Z\ 9E =$

$5Z\ 6E =$

$7Z\ 5E =$

$6Z\ 3E =$

$6Z\ 6E =$

$1Z\ 1E =$

$1Z\ 8E =$

$3Z\ 8E =$

$6Z\ 0E =$

$7Z\ 4E =$

$2Z\ 0E =$

$5Z\ 1E =$

$3Z\ 7E =$

$8Z\ 8E =$

$2Z\ 6E =$

$9Z\ 3E =$

$5Z\ 2E =$

$4Z\ 8E =$

Ordne die Zahlen nach der Größe! 34, 89, 12, 77, 45, 99, 24, 58, 61, 4
